

がつ にち ようび さんすう ⑥ 『なかまづくりと かず』 なまえ ()

【めあて】 5はいくつといくつ

ひつようなもの・・・きょうかしよ、えんぴつ、けしごむ、ぶろっく、スキルアップ

1 2ぺえじをひらきましょう。4にんのおともだちが 5このおはじきを とりました。

①しょうごくん、みささん、せいりさん、けんとさんが
とりだしたおはじきは、あおが なんこで、あかが なんこですか。
1 2ぺえじのした の □に かずを
かきましょう。

②1 3ぺえじをみてください。 5は、いくつといくつに わけられますか。○のかずをかぞえなが
ら、□にかずをかきましょう。

③いままでの べんきょうの ふくしゅうをします。できるかな？
『けいさんスキルアップ』の2・3をやってみましょう。
できたら、おうちのひとに ○をつけてもらいましょう。

おうちの方へ

5の構成の学習です。「5は、3と2」
「3と2で、5」
という見方ができるようにしたいです。
ブロックを使うとわかりやすいです。
□に数字を書いたら、正しいかどうか
見てあげてください。



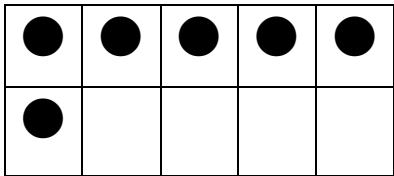

【めあて】おなじかずのなかまをさがそう

ひつようなもの・・・きょうかしよ、えんぴつ、けしごむ、

14・15ぺえじをひらきましょう。
どうぶつたちが、たのしそうにあそんでいますね。

①いぬは、6ぴきいます。
いぬとおなじかず6の なかまをさがしましょう。

いぬ

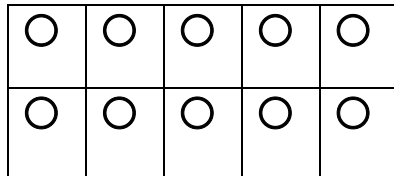


「ばけつ」も
6だよ。おなじかずの なかま!

6 ろく

②ねこ、ぶた、りす、ねずみ は、それぞれ なんぴきかな？
かぞえたら、16ぺえじの えをみて かくにんしましょう。そして、

みぎがわの



に そのかずだけ いろをぬりましょう。

③17ぺえじの6～10をていねいになぞりましょう。



がつ にち ようび さんすう 8 『かぞえよう』なまえ ()

ひつようなもの・・・きょうかしよ、えんぴつ、けしごむ、スキルアップ

【めあて】かぞえよう

18ページ・19ページをひらこう。

①かえるは、なんびきかな？「うえに、3びき、したに、3びきだから・・・」

②いちごは、なんこかな？「うえに、3こ、まんなかに、3こ、したに3こだから・・・」

③おなじように、さかな、すずめ、ばなな、あめ、ふうせん、かすたねっと、ぱん、かみひこうき もかぞえてみましょう。おうちのひとに はなしてみましよう。

④18ページの □に かぞえた かずを かいてみましょう。

⑤19ページのした「せんで むすぼう」を、やってみましよう。

⑥いままでの べんきょうの ふくしゅうをします。できるかな？
『けいさんスキルアップ』の4・5をやってみましよう。
できたら、おうちのひとに ○をつけてもらいましよう。



がつ にち ようび さんすう 9 『6は、いくつといくつ』 なまえ ()

【めあて】
かくしている かずを あてましょう

ひつようなもの・・・きょうかしよ、えんぴつ、けしごむ、ブロック

20ぺえじの うえの えを みましょう。

6 ぶろっくが6こあるよ。

おうちの方へ
ワークシートは2枚あります。
6の構成を学習します。
むずかしいときは、ブロックを実際に手で隠して考えさせるといいと思います。
「かぞえよう」では、6だけでなく、一つ少ない「5」や、一つ多い「7」をいっしょにあつかっています。

①かくしている かずをあてましょう。

まず、「ぶろっくが 5こ そとに じているから・・・かくれているのは・・・1こだね。」

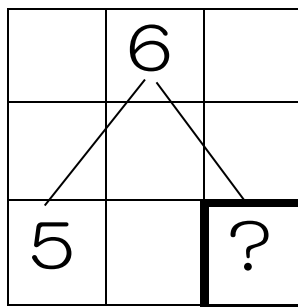
つぎに、「ぶろっくが 3こ そとに じているから・・・かくれているのは・・・？」

さあ、ほかもかんがえて □のなかに かずをかきましょう。

②6は、5といくつにわけられますか？

わかったら、20ぺえじの□にかきましょう。

③21ぺえじのうえも
ぜんぶをやきましょう。



④21ペえじのした「かぞえよう」をやります。したの □に かずをいれてから、
きょうかしよに ぜんぶのかずを かきましょう。

ちゅうりっぷは・・・あか□、しろ□

えんぴつは・・・えんぴつたてのなかに□、そとに□

ひよこは・・・うえに□、したに□

ぼうしは・・・あか□、しろ□

いぬは・・・おおきいいぬ□、ちいさいいぬ□

・・・くろいいぬ□、しろいいぬ□

まぐかっぷは・・・あお□、ぴんく□



がつ にち ようび さんすう 10 『なかまづくりと かず』なまえ ()

【めあて】
かくしている かずを あてましょう

ひつようなもの・・・きょうかしよ、えんぴつ、けしごむ、ブロック

22ぺえじの うえの えを みましょう。

7

ぶろっくが7こあるよ。

おうちの方へ

ワークシートは2枚あります。

7の構成を学習します。

むずかしいときは、ブロックを実際に手で隠して考えさせるといいと思います。

「かぞえよう」では、6だけでなく、一つ少ない「6」や、一つ多い「8」をいっしょにあつかっています。

①かくしている かずをあてましょう。

まず、「ぶろっくが 5こ そとに じているから・・・かくれているのは・・・2こだね。」

つぎに、「ぶろっくが 4こ そとに じているから・・・かくれているのは・・・？」

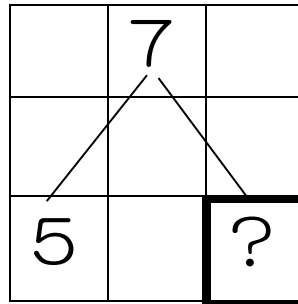
さあ、ほかもかんがえて □のなかに かずをかきましょう。

②7は、5といくつに分けられますか？

わかったら、22ぺえじの□にかきましょう。

③23ぺえじのうえも

ぜんぶをやきましょう。



④23ページにした「かぞえよう」をやります。したの □に かずをいれてから、
きょうかしょに ぜんぶのかずを かきましょう。

えんぴつは・・・みどり□、ピンク□

くっきー・・・さらのうえに□、かごのなかに□

こつぷは・・・うえに□、したに□

ことりは・・・すのなかに□、すのそとに□

かさは・・・きいろ□、あお□

・・・ひらいている□、とじている□

ねこは・・・くろ□、しろ□

