


なまえ ()

☆ひっ算のしかたを かんがえよう

①ひろしさんは 35円のドーナツと 29円の グミを 買います。
だいはんは いくらに なりますか。

しき

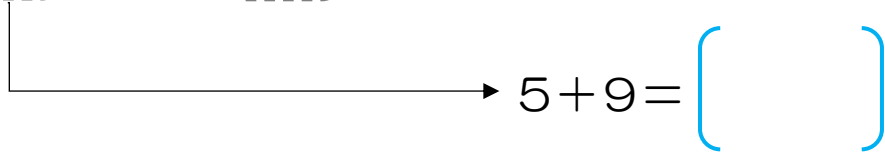
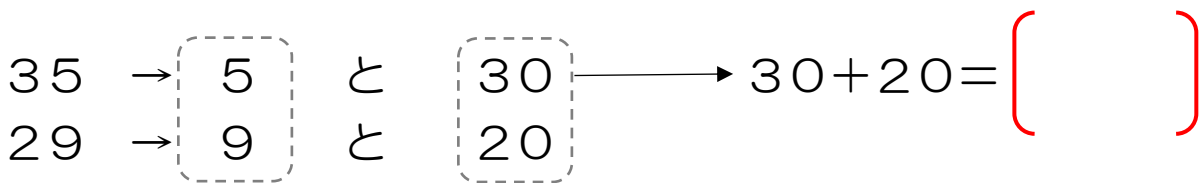
()



②35+12の ひっ算と ちがうところは どこでしょう。

()

③くらいごとに 計算してみましょう。



() + () = ()
こたえ ()

まとめ

()



ごとに 計算すれば、答えを もとめることができる。

ふりかえり (O しましょう)

かんたん	できた	むずかしい~